

# 「いわたん」からの挑戦状②


いわた こ  
岩田っ子のみんなへ。

きゅうこう あ  
休校でなかなか会えないみんなに、

またいわたんがクイズをようい

したよ。なんもん 何問できるかな？


ちょうせんしてみてね。



こた いちばん  
答えは一番さいごのページにあるよ。

## もんだい①

みぎ てん とお ちよくせん せん  
右の9この点をすべて通るような、直線(まっすぐな線)  
をひくには、どうしたらいいでしょうか？  
ただし、3回までは折れ曲がってもいいよ。



もんだい② した かず ちよくせん いっぽん はんぶん あらわ  
下の数に、直線を一本かいて「半分」を表しましょう。

5 0 0 0

ねんせい  
(6年生レベル)

もんだい③ した下の4つの中なかで、いちばんおお一番大きいものはどれでしょうか？

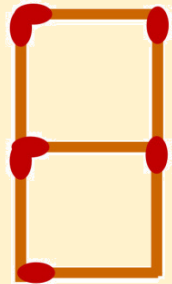
- ① しょうがくせい ようちえん      ② しょうがくせい 小学生  
③ ちゅうがくせい 中学生      ④ こうこうせい 高校生

もんだい④ じゅん順にひらがながならんでいます。?なにには何はいが入るでしょうか？

ね う と う た ? ...

もんだい⑤

みぎ右のマッチぼうを2本うごかして、ほん「半分の数」にします。  
どのようにうごかすとよいでしょうか？



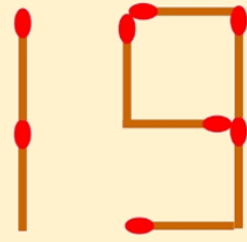
もんだい⑥

じゅん順にひらがながならんでいます。  
?なにには何はいが入るでしょうか？

ど→ん→き→く→も→い  
→す→か→つ→げ→ち→?


### もんだい⑦

みぎ ほん ほん あらわ  
右のマッチぼうに2本たして、「3」を表します。  
どこにたすとよいでしょうか？



### もんだい⑧

みぎ ほしがた ちよくせん ほん  
右の星形に直線を2本ひいて、  
さんかっけい つく  
三角形を10こ作ってみましょう。



### もんだい⑨

はい すうじ なん ねんせい  
?に入る数字(1~26)は何でしょうか？(4年生レベル)

家(いえ) → 1

池(いけ) → 11

石(いし) → 3

岩(いわ) → 25

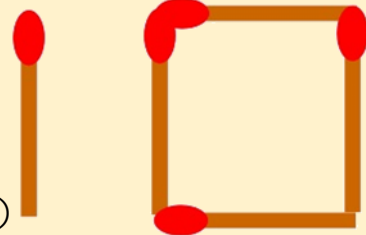
笛(ふえ) → 6

末(すえ) → ?



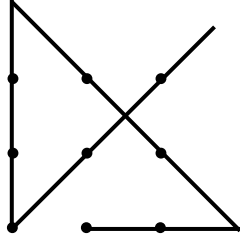
### もんだい⑩

ほう  
マッチ棒でできた「10」があります。  
ほん かず  
2本たして、10ばいの数にします。  
どこにたすとよいでしょうか？(2年生レベル)



こた  
答えのページ

もんだい①：

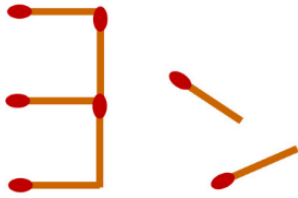


もんだい②：50%

もんだい③：①ようちえん

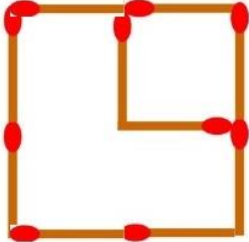
もんだい④：み

もんだい⑤：




もんだい⑥：に

もんだい⑦

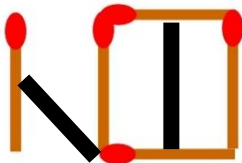


もんだい⑧：たとえば…



もんだい⑨：19

もんだい⑩：



なん  
何でそうなるのか、  
りゆう し こ  
理由が知りたい子は、  
きゅうこう  
休校が  
お  
終わったら  
たんじん せんせい き  
担任の先生に聞いてみよう！

