

ちょうせんじょう

# 「いわたん」からの挑戦状

いわた こ  
岩田っ子のみんなへ。

きゅうこう あ  
休校でなかなか会えないみんなに、

いわたんがクイズをよういしたよ。

なんもん  
何問できるかな？

ちょうせんしてみてね。



こた いちばん  
答えは一番さいごのページにあるよ。

もんだい① ○○に入ることは、何なんでしょう？

+ → た

- → ひ

= → め

ル → ○○



もんだい② ある順じゆんに記号きごうがなんでいます。?には何なにが入るでしょう？

○◎○○◎○○□?□□

もんだい③ ある順番じゆんばんでなっている「3文字もじのことば」があります。

□に入る3文字はい もじ なんは何でしょう？

① おこし 

② につけ 

③ たきび 


④ □□□

もんだい④ ある順じゆんに数かずがなんでいます。?には何なにが入るでしょう？

1, 1, 2, 3, 5, 8, ?, 21...

### もんだい⑤

みぎ  
右のようにカエルがたくさんいます。  
おとな なんびき  
大人のカエルは何匹いるでしょう？



もんだい⑥ つぎ しき あらわ にない はい  
次の式はあることを表しています。[?]には何が入るでしょう？

$$6 + 0 = 1$$

$$2 + 4 = 1$$

$$3 + \boxed{?} + 5 = 1 \quad (\leftarrow 2020\text{年だと, } 3 + \boxed{?} + 6 = 1)$$

もんだい⑦ ゆきやま まいご ちい やまこや  
雪山で迷子になっていると、小さな山小屋にたどりつきました。

こや  
小屋には…



ろうそく

しんぶんし



だんろ

ランプ



があります。

しかし、マッチは1本しかありません。一番最初は、何に火をつけますか？

### もんだい⑧

えんだま  
10円玉が、たてに4枚、よこに3枚な  
らんでいます。1枚だけうごかして、  
たてもよこも4枚にします。どのよう  
うごかせばよいでしょうか？

10

10

10

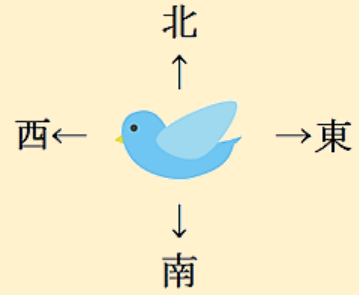
10

10

10

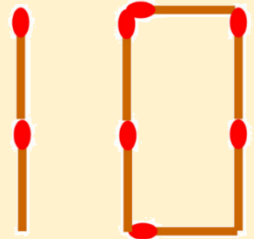
もんだい⑨

ここに「しあわせの<sup>あお</sup>青い<sup>とり</sup>鳥」がいます。  
この青い鳥は、<sup>あお</sup>東<sup>とり</sup>西<sup>とうざいなんぼく</sup>南<sup>と</sup>北<sup>ほうかく</sup>のどの  
方角に飛んでいくでしょうか？



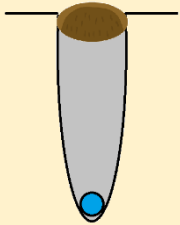
もんだい⑩

マッチ棒でできた「10」があります。  
1本だけうごかして、<sup>ほん</sup>半分の数<sup>はんぶん</sup>にします。  
どのようにうごかすとよいでしょうか？



もんだい⑪

<sup>あな</sup>深さ 10m のコンクリートの穴に、ゴムボールが<sup>お</sup>落ちてしまいました。  
下の何を使って取りますか？



**つか** 使えるもの

①ひも



②バケツ



③スコップ



④水

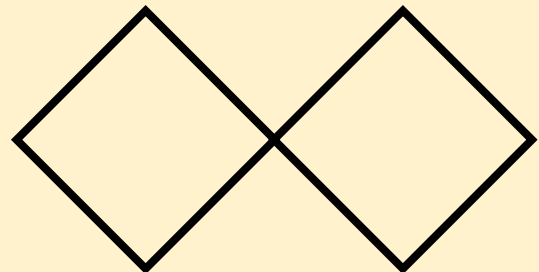


⑤おむすび



もんだい⑫

<sup>みぎ</sup>右の四角形2つに<sup>し</sup>直線<sup>し</sup>を3本ひいて、  
<sup>さんかくけい</sup>三角形を9こ<sup>つく</sup>作ってみましょう。



こた  
答えのページ

もんだい①：よん

もんだい②：□

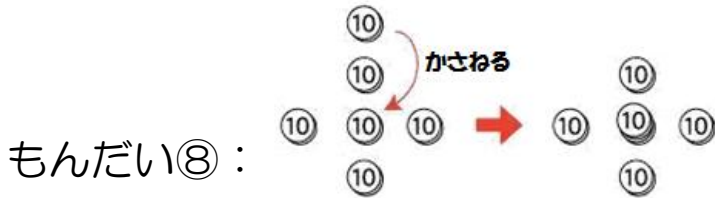
もんだい③：だんご

もんだい④：13

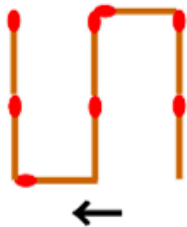
もんだい⑤：12ひき

もんだい⑥：6

もんだい⑦：マッチ



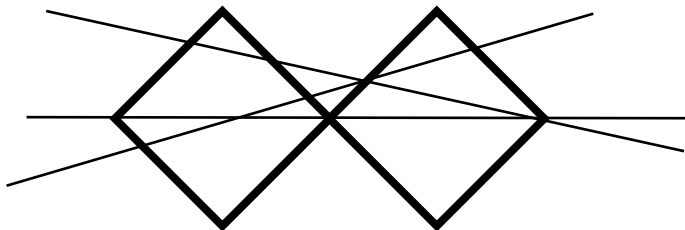
もんだい⑨：<sup>みなみ</sup>南



もんだい⑩：

もんだい⑪：<sup>みず</sup>水

もんだい⑫：たとえば…



なん  
何でそうなるのか、  
りゆう し  
理由が知りたい子は、  
こ  
休校が  
きゅうこう  
お  
終わったら担任の先生に聞いてみよう！  
たん にん せんせい き

